

Φυσιογνωστικά Α' Γυμνασίου

ΦΥΛΛΟ ΕΡΓΑΣΙΑΣ 1: Έμβια και Άβια Σώματα

Όνοματεπώνυμο: _____


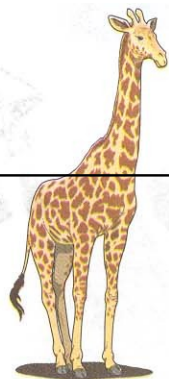
Τμήμα: _____

Ημερομηνία: _____



Στις εικόνες που ακολουθούν παρουσιάζονται κάποια άβια αντικείμενα και κάποιοι έμβιοι οργανισμοί.

1. Να τις κόψετε και να τις κολλήσετε στην αντίστοιχη στήλη του πίνακα που ακολουθεί




Άβια Αντικείμενα	Έμβιοι Οργανισμοί



1



Κυριάκος Κυριάκου



2.Τί χαρακτηρίζει ένα έμβιο οργανισμό;
